



SECRETARIA MUNICIPAL DE EDUCAÇÃO
UNIDADE ESCOLAR PREFEITO CÉZAR AUGUSTO
LEAL PINHEIRO
ENSINO FUNDAMENTAL - 2022



Disciplina: MATEMÁTICA

Série/ano: 9º ano

Turma: () B () C

Turno:

Professor (a): RENAN

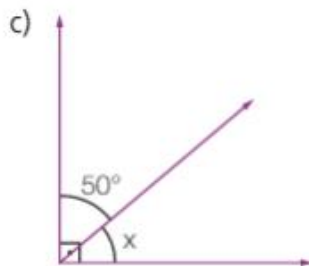
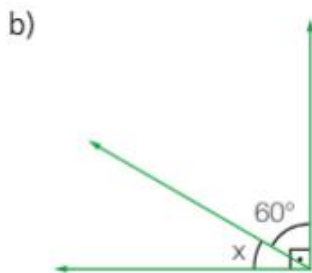
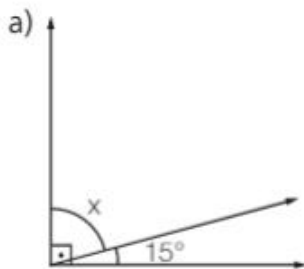
Data:

Aluno (a):

Conceito/Nota:

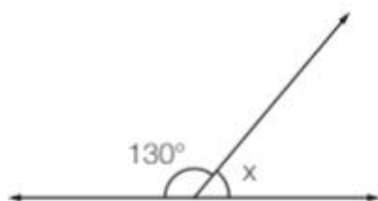
Atividade

1. Em cada item a seguir, os ângulos são adjacentes e **complementares**. Qual o valor de X cada caso?

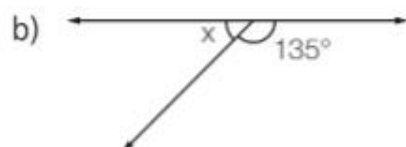


2. Em cada item a seguir, os ângulos são adjacentes e **suplementares**. Qual é o valor da medida X em cada caso?

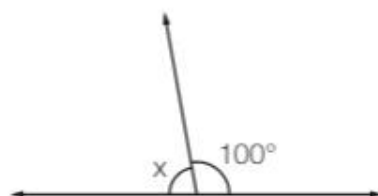
a)



o



c)

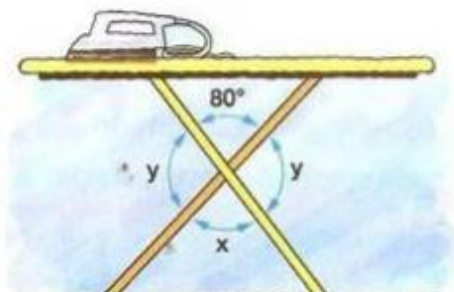


3 – Determine a medida do:

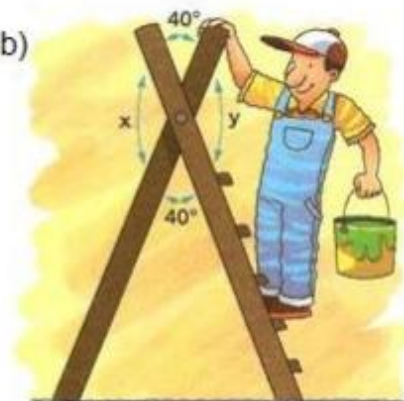
- a) complemento do ângulo de 47° .
- b) Suplemento do ângulo de 119° .
- c) Complemento do ângulo de 22° .
- d) Suplemento do ângulo de 67° .
- e) Complemento do ângulo de 89° .
- f) Suplemento do ângulo de 179° .

4 – Determinar a medida dos ângulos nas figuras, representados por letras:

a)



b)



5 – Determine as medidas de X, Y e Z:

